

MATEMATIČKE METODE FIZIKE I

Pismeni ispit 18. 2. 2022.

ZADATAK 1 Funkciju $f(x, y, z) = x^2 + y^2 + z^2 + 2xy - yz - 4x - 3y - z + 4$ razvijte po Taylorovoj formuli u okolini točke $(1, 1, 1)$.

ZADATAK 2 Temperatura točke (x, y, z) na sferi jediničnog polumjera, dana je jednadžbom

$$T(x, y, z) = 1 + xy + yz$$

Upotrebom metode Lagrangeovih množitelja, nađite temperaturu najtoplije točke na sferi.

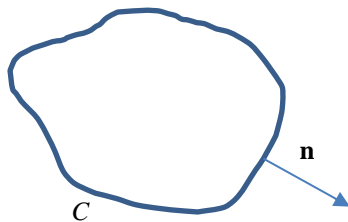
ZADATAK 3 Izračunajte volumen dijela prostora koji je omeđen paraboloidom $z = 3 - x^2 - y^2$ i ravninom $z = 0$.

Uputa: koristite polarne koordinate.

ZADATAK 4 Za harmonijsku funkciju u , odnosno, funkciju koja zadovoljava Laplaceovu jednadžbu na nekom području D u ravnini xy vrijedi

$$\oint_C \nabla u \cdot \mathbf{n} ds = 0 \quad (*)$$

gdje je C proizvoljna krivulja na D , a \mathbf{n} vanjska normala na krivulju C .



Upotrijebite gornju jednakost i pokažite da vrijedi teorem srednje vrijednosti za harmonijsku funkciju u

$$u(x_0, y_0) = \frac{1}{2\pi R} \oint_C u(x, y) ds$$

gdje je C kružnica polumjera R sa središtem u točki (x_0, y_0) koja cijela leži u području D .

Uputa: primijetite da je \mathbf{n}

$$\mathbf{n} = \frac{1}{\sqrt{\dot{x}^2 + \dot{y}^2}} (\dot{y}\mathbf{e}_x - \dot{x}\mathbf{e}_y)$$

te da vrijedi

$$\nabla u \cdot \mathbf{n} ds = \frac{\partial u}{\partial r} r d\phi$$

ako su (r, ϕ) polarne koordinate na kružnici polumjera $r \leq R$. Na kraju, integrirajte jednadžbu (*) po r od 0 do R .

ZADATAK 5 Provjerite teorem o divergenciji za vektorsko polje

$$\mathbf{F}(\mathbf{r}) = \mathbf{r}$$

ako je područje integracije valjak

$$x^2 + y^2 \leq R^2$$

$$0 \leq z \leq H$$

Uputa: vektor položaja u cilindričkim koordinatama glasi

$$\mathbf{r} = \rho \mathbf{e}_\rho + z \mathbf{e}_z$$

Diferencijal površine po plaštu je

$$dS = R d\phi dz$$

Z3.4

Funkcije je polinom drugog reda pa će imati članove najviše drugog reda.

$$f(x, y, z) = f(x_0, y_0, z_0) + \frac{1}{1!} [(x-x_0) f'_x + (y-y_0) f'_y + (z-z_0) f'_z] \\ + \frac{1}{2!} [(x-x_0) \frac{\partial}{\partial x} + (y-y_0) \frac{\partial}{\partial y} + (z-z_0) \frac{\partial}{\partial z}]^2 f_{(x_0, y_0)}$$

Računamo derivate

$$\frac{\partial f}{\partial x}(1, 1, 1) = (2x + 2y - 4) \Big|_{(1, 1, 1)} = 0$$

$$\frac{\partial f}{\partial y}(1, 1, 1) = (2y + 2x - z - 3) \Big|_{(1, 1, 1)} = 0$$

$$\frac{\partial f}{\partial z}(1, 1, 1) = (2z - y - 1) \Big|_{(1, 1, 1)} = 0$$

$$\frac{\partial^2 f}{\partial x \partial y}(1, 1, 1) = 2 \quad f(1, 1, 1) = 0$$

$$\frac{\partial^2 f}{\partial x \partial z}(1, 1, 1) = 0$$

$$\frac{\partial^2 f}{\partial y \partial z}(1, 1, 1) = -1$$

$$\frac{\partial^2 f}{\partial x^2} = 2$$

$$\frac{\partial^2 f}{\partial y^2} = 2$$

$$\frac{\partial^2 f}{\partial z^2} = 2$$

$$\begin{aligned} f(x, y, z) &= \frac{1}{2!} \left((x-1)^2 \cdot 2 + (y-1)^2 \cdot 2 + (z-1)^2 \cdot 2 \right. \\ &\quad \left. + 2(y-1)(z-1) \cdot (-1) \right) \\ &= (x-1)^2 + (y-1)^2 + (z-1)^2 + 2(x-1)(y-1) - (y-1)(z-1) \end{aligned}$$

4.7

Jednadžba veze je

$$x^2 + y^2 + z^2 = 1 \Rightarrow g(x, y, z) = 1 - x^2 - y^2 - z^2 = 0$$

Formiramo funkciju:

$$f(x, y, z) = T(x, y, z) + \lambda g(x, y, z)$$

$$f(x, y, z) = 1 + xy + yz + \lambda(1 - x^2 - y^2 - z^2)$$

Stacionarne tačke

$$\frac{\partial f}{\partial x} = y - 2\lambda x = 0 \Rightarrow x = \frac{y}{2\lambda}$$

$$\frac{\partial f}{\partial y} = x + z - 2\lambda y = 0$$

$$\frac{\partial f}{\partial z} = y - 2\lambda z = 0 \Rightarrow z = \frac{y}{2\lambda}$$

Vidimo da je $x = z$. Uvrstimo u drugu jednadžbu

$$\frac{y}{2\lambda} + \frac{y}{2\lambda} - 2\lambda y = 0 \Rightarrow y \left(\frac{2}{2\lambda} - 2\lambda \right) = 0$$

$$\text{Imamo: } y = 0 \text{ i } \lambda = \pm \frac{1}{\sqrt{2}}$$

Ali je $y = 0$, tada su $x = z = 0$ i tačka nije na sferi

Za $\lambda = \pm \frac{1}{\sqrt{2}}$ imamo:

$$x = y \cdot \left(\pm \frac{\sqrt{2}}{2} \right)$$

$$z = y \cdot \left(\pm \frac{\sqrt{2}}{2} \right)$$

Uvrstimo u jednadžbu rane

$$y^2 \cdot \left(1 + \frac{1}{2} + \frac{1}{2}\right) = 1 \Rightarrow y = \pm \frac{1}{\sqrt{2}}$$

dakle su x i z

$$x = \pm \frac{1}{2}$$

$$z = \pm \frac{1}{2}$$

Četiri moguće točke za ekstremum temperature su

$$\left(\frac{1}{2}, \pm \frac{1}{\sqrt{2}}, \frac{1}{2}\right)$$

$$\left(-\frac{1}{2}, \pm \frac{1}{\sqrt{2}}, -\frac{1}{2}\right)$$

Uvrstimo li ih u temperaturu, vidimo da je maksimum

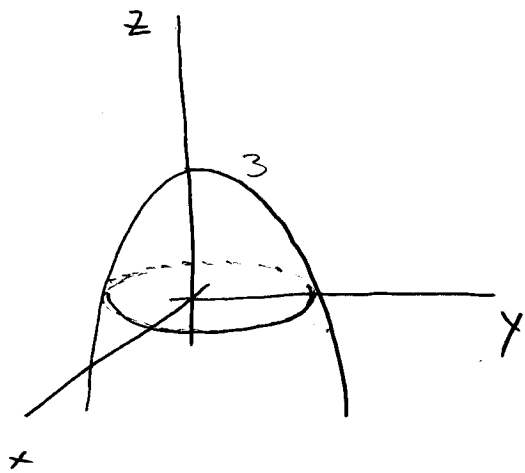
$$T = 1 + \frac{1}{\sqrt{2}}$$

za točke

$$\pm \left(\frac{1}{2}, \frac{1}{\sqrt{2}}, \frac{1}{2}\right)$$

Druge dvije točke daju minimalnu temperaturu:

3.



Projekcija ove plohe na ravninu
 xy daje ($z=0$)

$$x^2 + y^2 = 3$$

To je krug (odnosno,
krug, za $x^2 + y^2 \leq 3$)

poluprečnika $R = \sqrt{3}$.

Volumen ćemo pronaći pomoću

$$\int_D f(x,y) dx dy$$

gdje je D krug poluprečnika $\sqrt{3}$. Imamo

$$x = r \cdot \cos \phi$$

$$y = r \cdot \sin \phi$$

$$f(x,y) = z = 3 - x^2 - y^2 = 3 - r^2$$

$$\begin{aligned} \int_0^{2\pi} d\phi \int_0^{\sqrt{3}} dr \cdot r (3 - r^2) &= 2\pi \cdot \left[3 \cdot \frac{r^2}{2} - \frac{r^4}{4} \right] \Big|_0^{\sqrt{3}} \\ &= 2\pi \cdot \left[3 \cdot \frac{3}{2} - \frac{9}{4} \right] \\ &= 2\pi \cdot \frac{9}{4} = \frac{9\pi}{2} \end{aligned}$$

4.

Jednadžba

$$\oint_C \vec{\nabla} u \cdot \vec{n} ds = 0$$

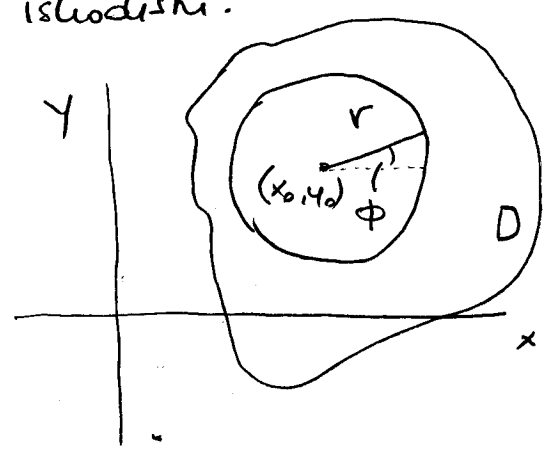
podrazeli smo na zadatku koji je bio na ispitu u 1. kl.

Uzmimo uopće da je C krug radijusa r sa središtem u točki (x_0, y_0) . Parametrike jednadžbe kruga su

$$x(\phi) = x_0 + r \cos \phi$$

$$y(\phi) = y_0 + r \sin \phi$$

gdje su r i ϕ polare koordinate u sustavu u kojem je krug i ishodište.



Imamo

$$\vec{\nabla} u \cdot \vec{n} ds = \left(\frac{\partial u}{\partial x} \cdot \frac{\dot{y}}{\sqrt{\dot{x}^2 + \dot{y}^2}} - \frac{\partial u}{\partial y} \cdot \frac{\dot{x}}{\sqrt{\dot{x}^2 + \dot{y}^2}} \right) \sqrt{\dot{x}^2 + \dot{y}^2} d\phi$$

gdje se derivacije \dot{x} i \dot{y} odnose na derivacije po parametru ϕ .

Uvrtimo li informaciju o krugu i gornju jednadžbu, imamo

$$\left(\frac{\partial u}{\partial x} \cdot \cos \phi - \frac{\partial u}{\partial y} \cdot (-\sin \phi) \right) \cdot r d\phi =$$

No zagrada je, uz $u(x, y) = u(x_0 + r \cos \phi, y_0 + r \sin \phi)$

$$\frac{\partial}{\partial r} u(x, y) = \frac{\partial u}{\partial x} \cdot \cos \phi + \frac{\partial u}{\partial y} \cdot \sin \phi$$

prema derivaciji: složene funkcije. Prema tome,

$$\vec{\nabla} u \cdot \vec{n} ds = \frac{\partial u}{\partial r} r d\phi$$

pa je

$$\oint_C \vec{\nabla} u \cdot \vec{n} ds = \int_0^{2\pi} d\phi \frac{\partial u}{\partial r} r = 0$$

Ovo možemo napisati u obliku

$$\frac{d}{dr} \int_0^{2\pi} d\phi u(x_0 + r \cos \phi, y_0 + r \sin \phi) = 0$$

odnosno, možemo integrirati po r

$$\int_0^{2\pi} d\phi \int_0^R dr \frac{du}{dr} = \int_0^{2\pi} d\phi \left[u(x_0 + R \cos \phi, y_0 + R \sin \phi) - \int_0^{2\pi} d\phi u(x_0, y_0) \right]$$

$2\pi u(x_0, y_0)$

Odatye,

$$u(x_0, y_0) = \frac{1}{2\pi} \int_0^{2\pi} d\phi u(x_0 + R \cos \phi, y_0 + R \sin \phi)$$
$$= \frac{1}{2\pi R} \oint_C u(x, y) ds$$

12.4

$$\vec{F}(\vec{r}) = \vec{F}$$

Израчунајмо укупно

$$\int_V \vec{\nabla} \cdot \vec{F} dV = 3 \int dV = 3HR^2\pi$$

$$\oint_S \vec{F} \cdot d\vec{S} = \int_{\text{PLAŠT}} + \int_{\text{BAZE}}$$

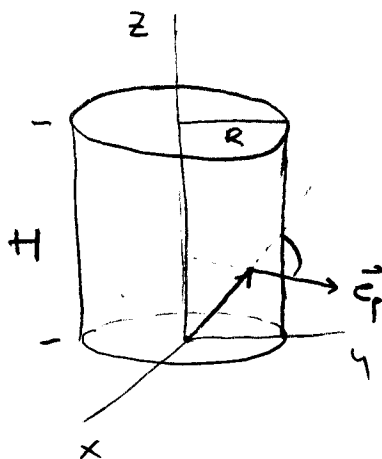
$$\int_{\text{PLAŠT}} \vec{F} \cdot d\vec{S} =$$

PLAŠT

$$d\vec{S} = R d\phi dz \vec{e}_\phi$$

$$\vec{F} = \rho \vec{e}_\rho + z \vec{e}_z$$

$$\vec{F} \cdot d\vec{S} = R^2 d\phi dz$$



$$\int_{\text{PLAŠT}} R^2 d\phi dz = 2\pi R^2 H$$

PLAŠT

$$\int_{\text{GORNJA BAZA}} \vec{F} \cdot d\vec{S} = \int_{\text{G.B.}} (\rho \vec{e}_\rho + z \vec{e}_z) \cdot (\rho d\rho d\phi \vec{e}_z)$$

GORNJA BAZA

$z=H$

$$= H \int_{\text{G.B.}} \rho d\rho d\phi = H \frac{R^2}{2} \cdot 2\pi = \pi R^2 H$$

$$\int_{\text{DOLJA BAZA}} z \rho d\rho d\phi = 0$$

DOLJA BAZA

$z=0$

$$\text{Sve skupa: } \oint_S \vec{F} \cdot d\vec{S} = 3\pi R^2 H$$