

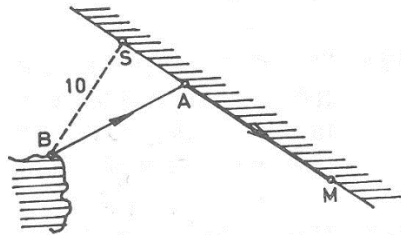
OSNOVE MATEMATIKE

Prvi kolokvij 18. 12. 2023.

ZADATAK 1 Putnik treba prijeći put od otoka Brača (B) do Makarske (M). Mjesto na Braču iz kojeg kreće na put udaljeno je od Splita (S) 10 km. Jadranska magistrala od Splita do Makarske prolazi neposredno uz obalu i približno je ravna s duljinom 30 km. Kut BSM je približno pravi kut. Putnik do točke A na obali putuje brodom brzinom $9 \text{ km} \cdot \text{h}^{-1}$, a zatim od točke A do Makarske automobilom brzinom $80 \text{ km} \cdot \text{h}^{-1}$.

(a) U kojoj točki A na magistrali se treba iskrcati s broda da put BAM prijeđe u najkraćem vremenu?

(b) Koliko traje takvo putovanje?



ZADATAK 2 Čestica se giba nejednoliko po pravcu, a ovisnost brzine o vremenu glasi:

$$v(t) = 2t^2 + 3t \text{ cm} \cdot \text{s}^{-1}$$

Koliki je put prošla čestica od $t = 2 \text{ s}$ do $t = 4 \text{ s}$?

ZADATAK 3 Zadan je vektor $\vec{a} = 3\vec{m} - 4\vec{n}$, gdje su \vec{m} i \vec{n} jedinični i međusobno ortogonalni vektori. Odredite vektor \vec{b} u ravnini vektora \vec{m} i \vec{n} ako je $|\vec{b}| = 2|\vec{a}|$ i ako je \vec{b} ortogonalan na \vec{a} .

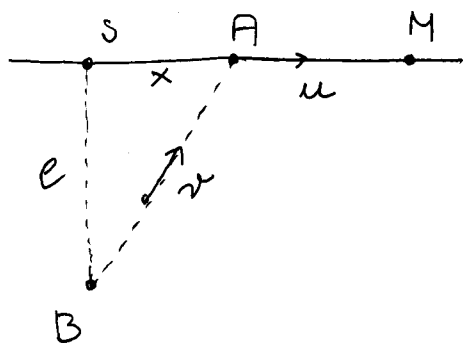
ZADATAK 4 Kako glasi jednačba hiperbole ako ona prolazi točkama $T_1 = (5, 4)$ i $T_2 = (2, 1)$? Odredite duljine poluosi, žarišta te linearni i numerički ekscentricitet.

ZADATAK 5 Pokažite da je

$$r = \frac{1}{1 - \sin \phi}$$

polarna jednačba parabole. Nađite poluparametar p . Skicirajte kako izgleda ova parabola; na primjer, odaberite kutove $0, \pi/6, \pi/2, 5\pi/6, \pi$.

1.



$$d(B,S) = 10 \text{ km} \equiv e$$

$$d(S,M) = 30 \text{ km} \equiv s$$

$$d(S,A) = x$$

$$v = 9 \text{ km h}^{-1}$$

$$u = 80 \text{ km h}^{-1}$$

Vrijeme od B do A

$$t_1 = \frac{d(B,A)}{v} = \frac{\sqrt{e^2 + x^2}}{v}$$

Vrijeme od A do M

$$t_2 = \frac{d(A,M)}{u} = \frac{s-x}{u}$$

Ukupno vrijeme kao funkcija od x

$$t(x) = t_1 + t_2 = \frac{\sqrt{e^2 + x^2}}{v} + \frac{s-x}{u}$$

Tražimo minimum ove funkcije: Stacionarne točke

$$\frac{dt}{dx} = 0$$

$$\frac{1}{v} \cdot \frac{1}{2} \cdot \frac{2x}{\sqrt{e^2 + x^2}} - \frac{1}{u} = 0$$

$$\frac{x^2}{e^2 + x^2} = \frac{v^2}{u^2}$$

$$x^2 = \left(\frac{v}{u}\right)^2 (e^2 + x^2)$$

$$x^2 \left(1 - \left(\frac{v}{u}\right)^2\right) = \left(\frac{v}{u}\right)^2 e^2$$

$$x_0 = \frac{v \cdot e}{u} \cdot \frac{u}{\sqrt{u^2 - v^2}}$$

$$= e \cdot \frac{v}{\sqrt{u^2 - v^2}}$$

Prema tome,

$$x_0 = d(S, A) = 10 \cdot \frac{9}{\sqrt{80^2 - 9^2}} = 1,13 \text{ km}$$

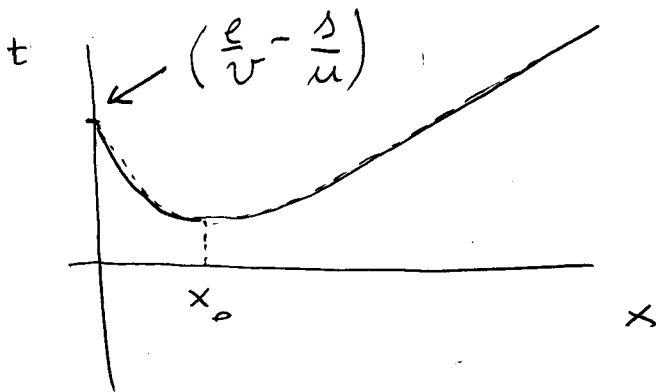
Je li to tačka minimuma? Za $x \gg l, \Delta$ imamo

$$t \sim \frac{x}{v} - \frac{x}{u} = \left(\frac{u-v}{uv} \right) x$$

što je pravac. Ako je $x \ll l, \Delta$

$$t \sim \frac{l}{v} + \frac{\Delta-x}{u} = \left(\frac{l}{v} + \frac{\Delta}{u} \right) - \frac{1}{u} x$$

Opet pravac, ali s negativnim koeficijentom supruž. Prema tome



Očito, za x_0 dobijemo minimalno vrijeme.

Uvrstimo u $t(x)$

$$\begin{aligned} t(x_0) &= \frac{\sqrt{l^2 + x_0^2}}{v} + \frac{\Delta - x_0}{u} = \frac{\sqrt{10^2 + 1,13^2}}{9} + \frac{30 - 1,13}{80} \\ &= 1,48 \text{ h} = 1 \text{ h } 29 \text{ min} \end{aligned}$$

2.

Prijeteni put od 2s do 4s iznosi:

$$\begin{aligned} s &= \int_2^4 (2t^2 + 3t) dt = 2 \cdot \frac{t^3}{3} \Big|_2^4 + 3 \cdot \frac{t^2}{2} \Big|_2^4 \\ &= \frac{2}{3} (4^3 - 2^3) + \frac{3}{2} \cdot (4^2 - 2^2) \\ &= \frac{2}{3} (64 - 8) + \frac{3}{2} \cdot (16 - 4) \\ &= \frac{2}{3} \cdot 56 + \frac{3}{2} \cdot 12 = \frac{112}{3} + 18 = \frac{166}{3} \text{ cm} \\ &= 55,33 \text{ cm} \end{aligned}$$

3.

Označimo traženi vektor \vec{b} kao

$$\vec{b} = b_1 \vec{m} + b_2 \vec{n}$$

Prvi uvjet je da je \vec{b} ortogonalan na \vec{a}

$$\vec{a} \cdot \vec{b} = 0 \Rightarrow 3b_1 - 4b_2 = 0 \Rightarrow b_2 = \frac{3}{4}b_1$$

Drugi uvjet je da vrijedi

$$|\vec{b}|^2 = 4|\vec{a}|^2$$

$$b_1^2 + b_2^2 = 4 \cdot (9 + 16) = 100$$

Iz dva uvjeta

$$b_1^2 + \underbrace{\left(\frac{3}{4}\right)^2}_{\frac{9}{16}} b_1^2 = 100$$

$$\frac{25}{16} b_1^2 = 100 \quad /: 25$$

$$b_1^2 = 4 \cdot 16 = 64$$

$$b_1 = \pm 8$$

$$b_2 = \frac{3}{4}(\pm 8) = \pm 6$$

Rešenje:

$$\vec{b}_1 = 8\vec{m} + 6\vec{n}$$

$$\vec{b}_2 = -8\vec{m} - 6\vec{n}$$

Jednadžba hiperbole glasi:

$$\frac{x^2}{a^2} - \frac{y^2}{b^2} = 1 \quad | \cdot a^2 b^2$$

ili:

$$b^2 x^2 - a^2 y^2 = a^2 b^2$$

Uvrstimo točke

$$1. \quad 25b^2 - 16a^2 = a^2 b^2$$

$$2. \quad 4b^2 - a^2 = a^2 b^2$$

Oduzmemo li ove jednadžbe

$$21b^2 - 15a^2 = 0$$

$$b^2 = \frac{5}{7} a^2$$

Uvrstimo u 2.

$$4 \cdot \frac{5}{7} a^2 - a^2 = a^2 b^2$$

$$\frac{13}{7} a^2 = a^2 b^2 \Rightarrow b = \sqrt{\frac{13}{7}}$$

$$a = \sqrt{\frac{13}{5}}$$

Poluosi su $\sqrt{\frac{13}{5}}$ i $\sqrt{\frac{13}{7}}$. Jednadžba hiperbole glasi:

$$1 \cdot \frac{13}{7} x^2 - \frac{13}{5} y^2 = \frac{13}{7} \cdot \frac{13}{5} \quad | \cdot \frac{35}{13}$$

$$5x^2 - 7y^2 = 13$$

Linearni ekscentricitet hiperbole

$$e^2 = a^2 + b^2 = \frac{13}{5} + \frac{13}{7} = \frac{91 + 65}{35} \\ = \frac{156}{35}$$

$$e = \sqrt{\frac{156}{35}} \quad ; \quad \epsilon = \frac{e}{a} = \sqrt{\frac{156}{35}} \cdot \sqrt{\frac{5}{13}} = \sqrt{\frac{12}{7}}$$

5.

Zadany polarny jednadžbu kame možemo pisati u obliku

$$r = \frac{1}{1 - \cos\left(\frac{\pi}{2} - \phi\right)}$$

Odatje usporedim \sim

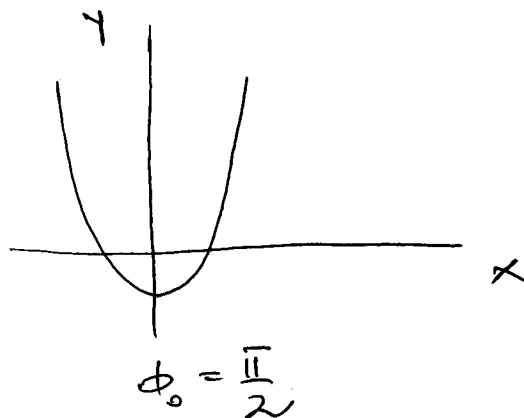
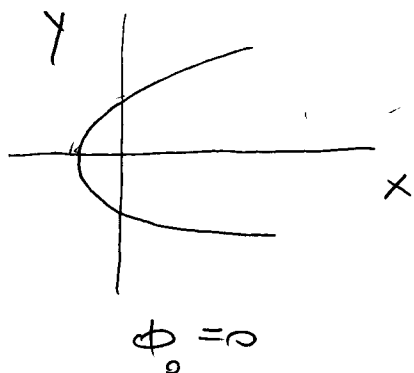
$$r(\phi) = \frac{p}{1 - \epsilon \cos(\phi - \phi_0)}$$

možemo procitati da je

$$p = 1$$

$$\epsilon = 1 \text{ (parabola)}$$

Također primjećujemo da parabola rotirana za kut $\phi_0 = \frac{\pi}{2}$



U to ne možemo ugenti uvrtimo li zadane kutove

$$\phi = 0 \Rightarrow r = 1$$

$$\phi = \pi/6 \Rightarrow r = 2$$

$$\phi = \pi/2 \Rightarrow r \rightarrow \infty$$

$$\phi = 5\pi/6 \Rightarrow r = 2$$

$$\phi = \pi \Rightarrow r = 1$$

$$\phi = -\frac{\pi}{2} \Rightarrow r = \frac{1}{2}$$

